

# XIX Semana Olímpica de Matemática

## Nível 2

### O Quarteto Harmônico e o Problema 6 da OBM

Davi Lopes

O projeto da XIX Semana Olímpica de Matemática foi patrocinado por:



# *O Quarteto Harmônico e o Problema 6 da OBM*

*Prof. Davi Lopes – Semana Olímpica 2016 – OBM – Nível 2*

## **1. Introdução**

Muitas vezes, o destino nos encurrala com diversos problemas de geometria bem difíceis. Muitos deles possuem diversas retas, ângulos e algumas relações que parece ser bem difíceis de se usar. Nesse artigo, estudaremos quatro tópicos que podem nos ajudar bastante a resolver esse tipo de situação.

Teorema de Menelaus, Teorema de Ceva, Quádruplas Harmônicas e Bissetrizes: esses quatro tópicos são o que conhecemos como o *Quarteto Harmônico*, sempre unidos para enfrentar os problemas que o Doutor Destino sempre coloca (Vocês entenderam a referência, né capitães? Tá... minhas piadas estão piores do que as do Spider Man!).

Bom, agora que tal vermos como esses super-teoremas vão nos ajudar a resolver alguns problemas-vilões bem fortes? Vamos lá!

## **2. O Teorema de Menelaus e o Teorema de Ceva**

Primeiro, vamos ver esses dois teoremas, nus e crus, para depois discutir suas aplicações.

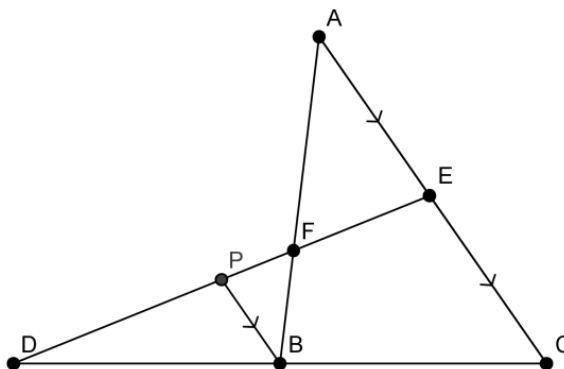
**Teorema 1 (Menelaus):** Dado um triângulo  $ABC$ , seja  $D$  um ponto sobre o prolongamento do lado  $BC$  e  $E, F$  pontos sobre os lados  $AC$  e  $AB$ , respectivamente. Então, os pontos  $D, E, F$  são colineares se, e somente se:

$$\frac{BD}{CD} \cdot \frac{CE}{AE} \cdot \frac{AF}{BF} = 1$$

**Demonstração:** Como o teorema é do tipo se, e somente se, então temos que fazer a demonstração em duas partes:

$$(\Rightarrow) \text{ (Se } D, E, F \text{ são colineares, então } \frac{BD}{CD} \cdot \frac{CE}{AE} \cdot \frac{AF}{BF} = 1)$$

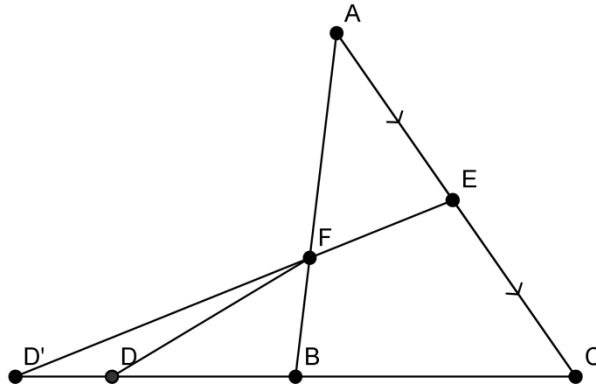
Considere a figura abaixo e seja  $P$  um ponto sobre a reta  $\overleftrightarrow{DEF}$  tal que  $BP \parallel AC$ . Esse paralelismo é bem interessante, pois dele conseguimos muitas semelhanças de triângulos, e assim podemos ir às contas!



- Os triângulos  $DBP$  e  $DCE$  são semelhantes, logo  $\frac{BD}{CD} = \frac{PB}{CE}$  (1)
- Os triângulos  $FBC$  e  $FAE$  são semelhantes, logo  $\frac{PB}{AE} = \frac{BF}{AF}$  (2)

Multiplicando (1) e (2) membro a membro, temos  $\frac{BD}{CD} \cdot \frac{PB}{AE} = \frac{PB}{CE} \cdot \frac{BF}{AF}$ , donde concluímos que  $\frac{BD}{CD} \cdot \frac{CE}{AE} \cdot \frac{AF}{BF} = 1$ , como queríamos provar.

( $\Leftarrow$ ) (Se  $\frac{BD}{CD} \cdot \frac{CE}{AE} \cdot \frac{AF}{BF} = 1$ , então  $D, E, F$  são colineares)



Suponha que os pontos  $D, E, F$  não sejam colineares, e suponha ainda que a reta  $\overleftrightarrow{EF}$  intersecte a reta  $\overleftrightarrow{BC}$  em  $D'$ . Claramente,  $D \neq D'$  (Estamos supondo que  $D, E, F$  não são colineares). Daí, pela primeira parte do teorema no triângulo  $ABC$ , reta  $\overleftrightarrow{D'EF}$  (Note que podemos usá-la, uma vez que já provamos que ela é verdadeira):

$$\frac{D'B}{D'C} \cdot \frac{EC}{EA} \cdot \frac{FA}{FB} = 1 \quad (3)$$

E pela nossa hipótese:

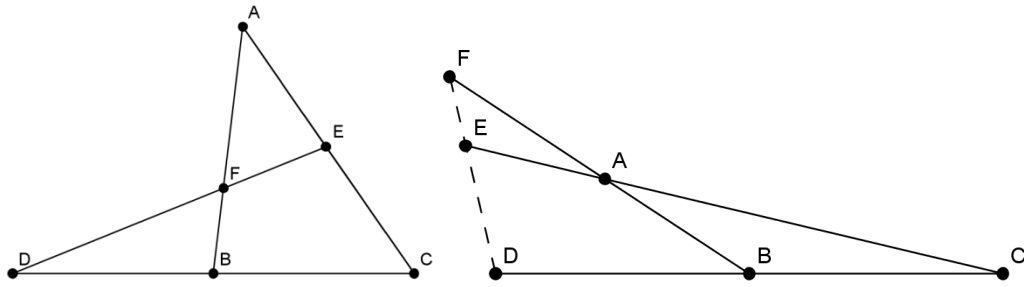
$$\frac{DB}{DC} \cdot \frac{EC}{EA} \cdot \frac{FA}{FB} = 1 \quad (4)$$

Dividindo (3) por (4), temos:

$$\frac{\frac{D'B}{D'C}}{\frac{DB}{DC}} = 1 \Rightarrow \frac{D'B}{DC} = \frac{D'B}{D'C} \Rightarrow \frac{DB}{DC - DB} = \frac{D'B}{D'C - D'B} \Rightarrow \frac{DB}{BC} = \frac{D'B}{BC} \Rightarrow DB = D'B \Rightarrow D = D'$$

Isso é um absurdo, pois  $D \neq D'$ . Assim, os pontos  $D, E, F$  são colineares, e como demonstramos as duas partes do teorema, então ele está demonstrado ■

Só mais uma coisa: podemos aplicar o teorema de Menelaus também quando os pontos  $D, E, F$  estão todos sobre os prolongamentos dos lados. Ou seja, podemos aplicar o teorema de Menelaus no triângulo  $ABC$ , reta  $\overleftrightarrow{DEF}$ , nas duas situações abaixo.

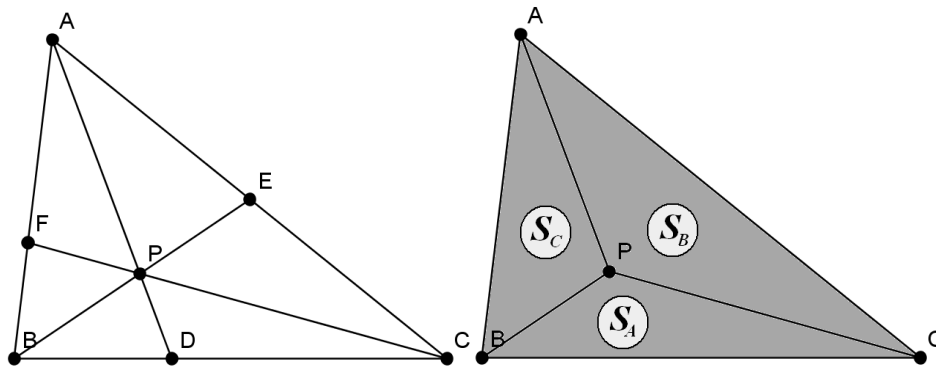


**Teorema 2 (Ceva):** Dado um triângulo  $ABC$ , seja  $D, E, F$  pontos sobre os lados  $BC, CA, AB$ , respectivamente. Então, as retas  $AD, BE, CF$  concorrem se, e somente se:

$$\frac{BD}{CD} \cdot \frac{CE}{AE} \cdot \frac{AF}{BF} = 1$$

**Demonstração:** Assim como o teorema de Menelaus, precisamos fazê-lo em duas partes, já que ele é um teorema do tipo se, e somente se.

( $\Rightarrow$ ) (Se as retas  $AD, BE, CF$  concorrem, então  $\frac{BD}{CD} \cdot \frac{CE}{AE} \cdot \frac{AF}{BF} = 1$ )



Vamos supor que  $S_A = \text{Área}(BPC)$ ,  $S_B = \text{Área}(CPA)$ ,  $S_C = \text{Área}(APB)$ . Então, observe o seguinte: pelas relações de razões entre segmentos como razões entre áreas (Método K), nos triângulos  $ABC$  e  $BPC$ , temos que:

$$\frac{BD}{CD} = \frac{\text{Área}(ABD)}{\text{Área}(ADC)} = \frac{\text{Área}(BPD)}{\text{Área}(DPC)} = \frac{\text{Área}(ABD) - \text{Área}(BPD)}{\text{Área}(ADC) - \text{Área}(DPC)} = \frac{\text{Área}(APB)}{\text{Área}(APC)} = \frac{S_C}{S_B}$$

Fazendo um raciocínio semelhante para achar  $\frac{CE}{AE}$  e  $\frac{AF}{BF}$ , temos que:

$$\frac{BD}{CD} = \frac{S_C}{S_B} \cdot \frac{CE}{AE} = \frac{S_A}{S_C} \cdot \frac{AF}{BF} = \frac{S_B}{S_A}$$

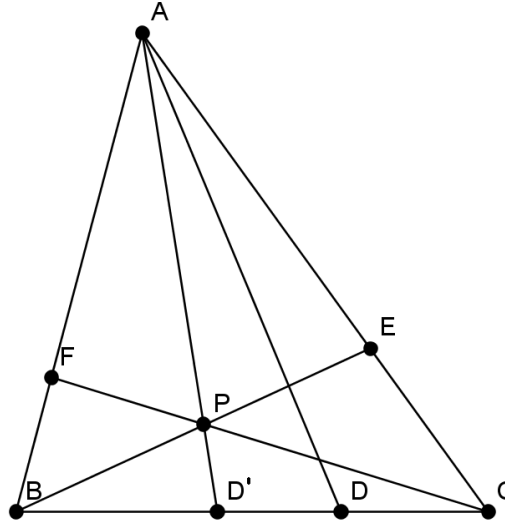
E multiplicando tudo, membro a membro, obtemos

$$\frac{BD}{CD} \cdot \frac{CE}{AE} \cdot \frac{AF}{BF} = \frac{S_C}{S_B} \cdot \frac{S_A}{S_C} \cdot \frac{S_B}{S_A} = 1$$

Como queríamos provar.

( $\Leftarrow$ ) (Se  $\frac{BD}{CD} \cdot \frac{CE}{AE} \cdot \frac{AF}{BF} = 1$ , então  $AD, BE, CF$  são concorrentes)

Suponha o contrário, ou seja,  $AD, BE, CF$  não sejam concorrentes. Denote por  $P$  o ponto de encontro de  $BE$  e  $CF$ , e suponha que  $AP$  intersecte  $BC$  em  $D'$ , como na figura abaixo. Claramente,  $D \neq D'$ , uma vez que  $AD, BE, CF$  não concorrem.



As retas  $AD, BE, CF$  são concorrentes. Logo, pela primeira parte, temos que:

$$\frac{D'B}{D'C} \cdot \frac{EC}{EA} \cdot \frac{FA}{FB} = 1 \quad (1)$$

E pela nossa hipótese:

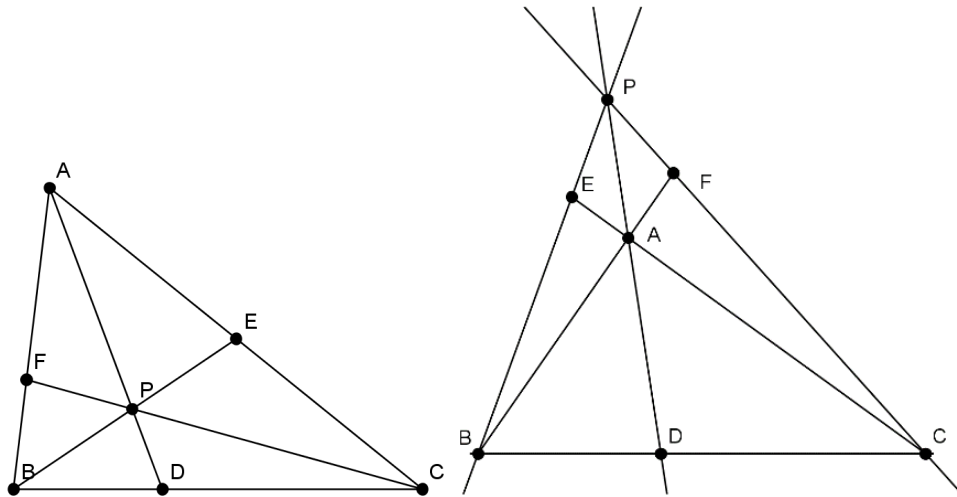
$$\frac{DB}{DC} \cdot \frac{EC}{EA} \cdot \frac{FA}{FB} = 1 \quad (2)$$

Dividindo (1) por (2), vem:

$$\frac{\frac{D'B}{D'C}}{\frac{DB}{DC}} = 1 \Rightarrow \frac{DB}{DC} = \frac{D'B}{D'C} \Rightarrow \frac{DB}{DC + DB} = \frac{D'B}{D'C + D'B} \Rightarrow \frac{DB}{BC} = \frac{D'B}{BC} \Rightarrow DB = D'B \Rightarrow D = D'$$

Isso é um absurdo, pois  $D \neq D'$ . Assim, as retas  $AD, BE, CF$  são concorrentes, e como demonstramos as duas partes do teorema, então ele está demonstrado ■

Só mais outra coisa: podemos aplicar o teorema de Ceva também quando dois dos três pontos  $D, E, F$  estão sobre os prolongamentos dos respectivos lados, e o terceiro ponto está sobre o respectivo lado. Ou seja, podemos aplicar o teorema de Ceva no triângulo  $ABC$ , reta  $\overleftrightarrow{DEF}$ , nas duas situações abaixo.



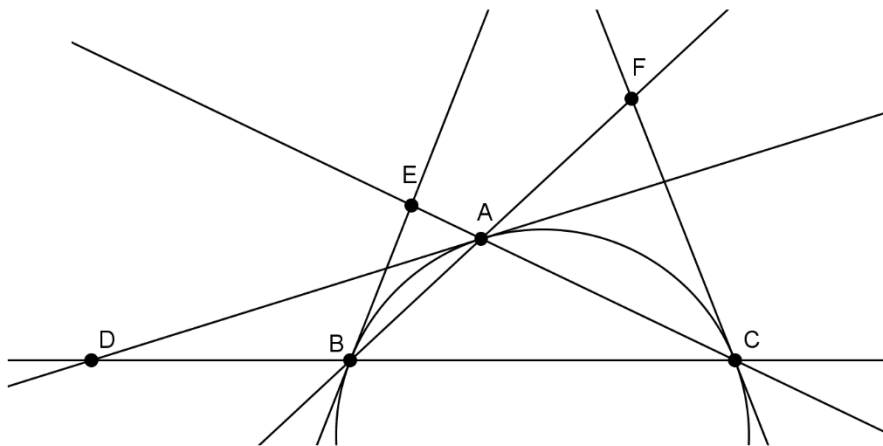
Mais uma observação assaz interessante: já repararam como as fórmulas de Menelaus e Ceva coincidem algebricamente, sendo que a única diferença é na disposição dos pontos? Isso tem uma explicação no *princípio da dualidade*, da Geometria Projetiva. Resumidamente, é como se Menelaus e Ceva fossem dois teoremas equivalentes, ou seja, se você tem um, obtém automaticamente o outro. Demais, não?

### 3. Aplicações de Menelaus e Ceva

Os teoremas de Menelaus e Ceva são muito úteis para se provar que três pontos são colineares (Menelaus), ou três retas são concorrentes (Ceva). Vejamos alguns exemplos.

**Exemplo 1:** Seja  $ABC$  um triângulo e seja  $\Gamma$  seu circuncírculo. A tangente a  $\Gamma$  pelo ponto  $A$  intersecta a reta  $BC$  em  $D$ ; a tangente a  $\Gamma$  por  $B$  intersecta  $CA$  em  $E$ ; a tangente a  $\Gamma$  por  $C$  intersecta  $AB$  em  $F$ . Prove que  $D, E, F$  são colineares.

**Solução:** Não é difícil ver que todos os pontos estão fora dos seus respectivos lados, como mostra a figura abaixo. Logo, podemos usar Menelaus no triângulo  $ABC$  para mostrar que  $D, E, F$  são colineares: basta encontrarmos as razões  $\frac{DB}{DC}, \frac{EC}{EA}, \frac{FA}{FB}$ .



Como  $AD$  é tangente a  $\Gamma$ , temos que  $\angle BAD = \angle DCA$ , e do fato de que  $\angle ADB = \angle CDA$ , temos que, pelo caso AA, os triângulos  $ABD$  e  $CAD$  são semelhantes. Logo:

$$\frac{DB}{AB} = \frac{AD}{AC} \Rightarrow DB = AD \cdot \frac{AB}{AC} \text{ e } \frac{DC}{AC} = \frac{AD}{AB} \Rightarrow DC = AD \cdot \frac{AC}{AB}$$

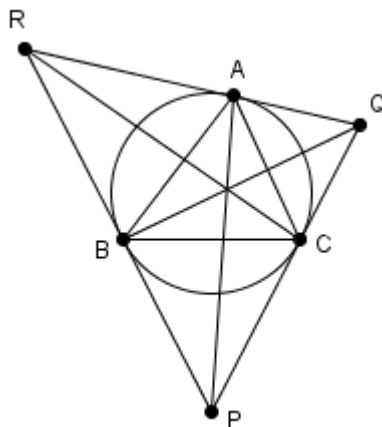
Dividindo as duas expressões, obtemos que  $\frac{DB}{DC} = \left(\frac{AB}{AC}\right)^2$ . Analogamente, temos que  $\frac{EC}{EA} = \left(\frac{BC}{BA}\right)^2$  e que  $\frac{FA}{FB} = \left(\frac{CA}{CB}\right)^2$ . Dessa forma, obtemos que:

$$\frac{DB}{DC} \frac{EC}{EA} \frac{FA}{FB} = \left(\frac{AB}{AC}\right)^2 \left(\frac{BC}{BA}\right)^2 \left(\frac{CA}{CB}\right)^2 = 1$$

Donde  $D, E, F$  são colineares, por Menelaus ■

**Exemplo 2:** Seja  $ABC$  um triângulo e seja  $\Gamma$  seu circuncírculo. As tangentes a  $\Gamma$  por  $B$  e  $C$  se intersectam em  $P$ , as tangentes a  $\Gamma$  por  $C$  e  $A$  se intersectam em  $Q$  e as tangentes a  $\Gamma$  por  $A$  e  $B$  se intersectam em  $R$ . Prove que  $AP, BQ$  e  $CR$  são concorrentes.

**Solução:**



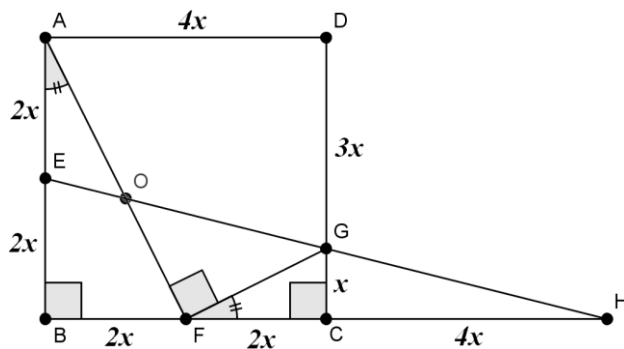
Observe que pelo teorema do bico, temos  $x = BP = CP$ ,  $y = CQ = AQ$ ,  $z = AR = BR$ . Daí, pelo teorema de Ceva aplicado no triângulo  $PQR$ , obtemos que as retas  $PA, QB, RC$  são concorrentes, pois  $A, B, C$  estão sobre os respectivos lados e:

$$\frac{QA}{RA} \cdot \frac{RB}{PB} \cdot \frac{PC}{QC} = \frac{y}{z} \cdot \frac{z}{x} \cdot \frac{x}{y} = 1 \quad \blacksquare$$

Os teoremas de Ceva e Menelaus não servem apenas para provarmos que três pontos são colineares. Eles são extremamente úteis para se achar razões entre segmentos.

**Exemplo 3 (Rioplatense/1997):** Seja  $ABCD$  um quadrado de lado 1. Sejam  $E$  e  $F$  os pontos médios dos lados  $AB$  e  $BC$ .  $G$  é um ponto sobre  $CD$  tal que  $GD = 3GC$ . As retas  $EG$  e  $AF$  se intersectam em  $O$ . Calcule a área do triângulo  $FGO$ .

**Solução:** Primeiro, uma boa figura (você vai ver porque construímos  $H$ , mas só depois...), com o lado do quadrado medindo  $4x$ . Obviamente, podemos achar o valor de  $x$  simplesmente notando que o lado do quadrado é igual a um. Logo  $1 = 4x \Rightarrow x = \frac{1}{4}$ .



Agora, note que  $\triangle ABF \sim \triangle GFC$  (Caso *LAL*, razão de semelhança: 2), donde temos  $\angle GFC = \angle FAB = \alpha \Rightarrow \angle AFB + \angle GFC = (90^\circ - \alpha) + \alpha = 90^\circ \Rightarrow \angle OFG = 90^\circ$ , donde temos que o triângulo  $FGO$  é retângulo em  $F$ . Portanto, para achar a área do triângulo  $FGO$ , basta achar os segmentos  $FG$  e  $FO$  (pois  $\text{Área}(FGO) = \frac{FG \cdot FO}{2}$ ).

Achar  $FG$  é fácil: basta só usar o teorema de Pitágoras no triângulo  $FGC$ :

$$FG^2 = GC^2 + CF^2 = x^2 + (2x)^2 = 5x^2 = 5 \cdot \left(\frac{1}{4}\right)^2 \Rightarrow FG = \frac{\sqrt{5}}{4} \quad (1)$$

(Note que de (1) e do fato da razão de semelhança entre os triângulos  $ABF$  e  $GFC$  ser igual a dois, temos que  $AF = 2FG \Rightarrow AF = \frac{\sqrt{5}}{2}$  (2))

E para acharmos o comprimento de  $OF$ ? Como vamos fazer? É aí que entra o teorema de Menelaus! Note que, pela construção do ponto  $H$ , temos que  $GC$  é base média do triângulo  $EBH$ , e, portanto,  $CH = BC = 4x$ .

Os pontos  $H, O$  e  $E$  são colineares. Logo, pelo teorema de Menelaus no triângulo  $ABF$ , reta  $\overleftrightarrow{EOH}$ , temos que:

$$\begin{aligned} \frac{HF}{HB} \cdot \frac{BE}{AE} \cdot \frac{AO}{OF} &= 1 \Rightarrow \frac{6x}{8x} \cdot \frac{2x}{2x} \cdot \frac{AO}{OF} = 1 \Rightarrow \frac{AO}{OF} = \frac{4}{3} \Rightarrow \frac{AO + OF}{OF} = \frac{4 + 3}{3} = \frac{7}{3} \Rightarrow \\ &\Rightarrow \frac{AF}{OF} = \frac{7}{3} \Rightarrow \frac{\frac{\sqrt{5}}{2}}{OF} = \frac{7}{3} \Rightarrow OF = \frac{3\sqrt{5}}{14} \quad (3) \end{aligned}$$

Portanto, de (1) e (3):

$$\text{Área}(FGO) = \frac{FG \cdot OF}{2} = \frac{\frac{\sqrt{5}}{4} \cdot \frac{3\sqrt{5}}{14}}{2} = \frac{3 \cdot \sqrt{5} \cdot \sqrt{5}}{2 \cdot 4 \cdot 14} = \frac{15}{112} \blacksquare$$

Enfim, os teoremas de Menelaus e Ceva possuem várias aplicações, mas em geral elas se baseiam em dois princípios: provar que três pontos são colineares (ou três retas são concorrentes), e achar razões entre segmentos (que muitas vezes servem para acharmos segmentos, como fizemos no exemplo 3). Portanto, é preciso praticar para obter o hábito de manipular com tais problemas.



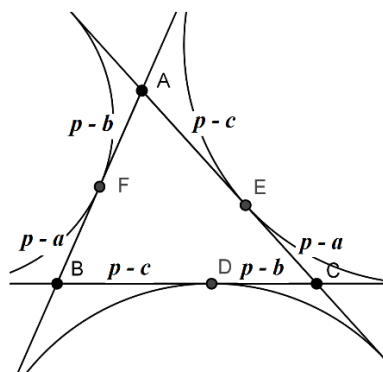
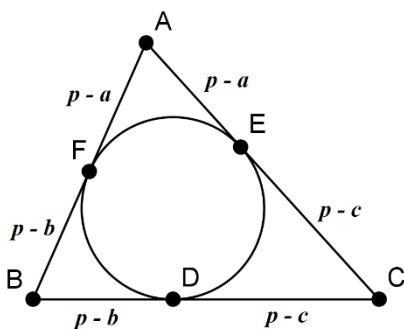
## Exercícios

- No triângulo retângulo  $ABC$ ,  $P$  e  $Q$  estão sobre  $BC$  e  $AC$ , respectivamente, tais que  $CP = CQ = 2$ . Pelo ponto de interseção  $R$  de  $AP$  e  $BQ$ , uma reta é desenhada passando também por  $C$  e cortando  $AB$  em  $S$ . O prolongamento de  $PQ$  corta  $AB$  em  $T$ . Se  $AB = 10$  e  $AC = 8$ , encontre  $TS$ .
- Um círculo passando pelos vértices  $B$  e  $C$  de um triângulo  $ABC$  corta  $AB$  em  $P$  e  $AC$  em  $R$ . Se  $PR$  corta  $BC$  em  $Q$ , prove que  $\frac{QC}{QB} = \frac{RC \cdot AC}{PB \cdot AB}$ .
- No quadrilátero  $ABCD$ , as retas  $AB$  e  $CD$  se cortam em  $P$ , enquanto as retas  $AD$  e  $BC$  se cortam em  $Q$ . As diagonais  $AC$  e  $BD$  cortam  $PQ$  em  $X$  e  $Y$ , respectivamente. Prove que  $\frac{PX}{XQ} = \frac{PY}{YQ}$ .
- No triângulo  $ABC$ , os pontos  $L, M, N$  estão sobre  $BC, AC, AB$ , respectivamente, e  $AL, BM, CN$  são concorrentes no ponto  $P$ .
  - Encontre o valor numérico de  $\frac{PL}{AL} + \frac{PM}{BM} + \frac{PN}{CN}$ .
  - Encontre o valor numérico de  $\frac{AP}{AL} + \frac{BP}{BM} + \frac{CP}{CN}$ .
- Os segmentos congruentes  $AE$  e  $AF$  são tomados sobre os lados  $AB$  e  $AC$ , respectivamente, do triângulo  $ABC$ . A mediana  $AM$  intersecta  $EF$  em  $Q$ . Prove que  $\frac{QE}{QF} = \frac{AC}{AB}$ .

## 4. Bissetrizes e Seus Teoremas

Agora, vamos estudar o terceiro membro do nosso quarteto: as bissetrizes. Existem muitos fatos bem atraentes e interessantes sobre elas, que enunciaremos sem demonstração (fica como exercício para o leitor (sempre sobra para o leitor...)).

- As bissetrizes interna e externa de um mesmo ângulo são perpendiculares.
- As bissetrizes internas dum triângulo  $ABC$  são concorrentes no incentro do triângulo  $ABC$ .
- As bissetrizes externas de  $\angle B$  e  $\angle C$  e a bissetriz interna de  $\angle A$  são concorrentes no ex-incentro relativo a  $A$ .
- Se  $a = BC$ ,  $b = CA$ ,  $c = AB$ ,  $2p = a + b + c$ , e os círculos abaixo são o incírculo e os ex-incírculos, com seus respectivos pontos de tangência, temos as medidas dos segmentos nas figuras abaixo:

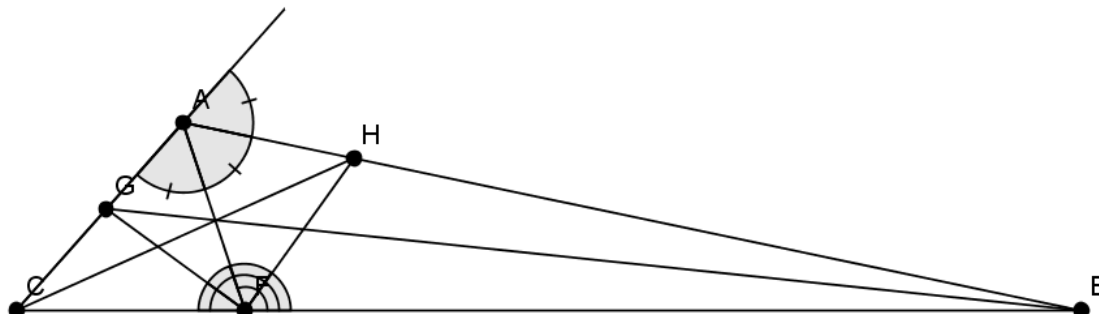


- Suponha que a bissetriz interna de  $\angle A$  toque o circuncírculo novamente em  $D$ . Sendo  $I$  o incentro do triângulo  $ABC$ , temos que  $BD = DC = ID$ .

Somente esses fatos nos já dão uma riqueza de técnicas que nos permite resolver diversos problemas. Vejamos um exemplo:

**Exemplo 4 (Leningrado):** Sejam  $AF$ ,  $BG$  e  $CH$  as bissetrizes de um triângulo  $ABC$  que tem ângulo  $A$  medindo  $120^\circ$ . Prove que o ângulo  $GFH$  mede  $90^\circ$ .

**Solução:**



Como  $\angle A = 120^\circ$  e  $AF$  é bissetriz, temos que os três ângulos destacados no vértice  $\angle A$  são iguais a  $60^\circ$ . Agora, vamos procurar ex-incentros.

No triângulo  $FAC$ ,  $AH$  é bissetriz externa e  $CH$  é bissetriz interna. Logo, pelo teorema 3,  $FH$  é bissetriz externa do triângulo  $FAC$ . Assim,  $\angle AFH = \frac{1}{2} \angle AFB$  (1)

No triângulo  $FAB$ ,  $AG$  é bissetriz externa e  $BG$  é bissetriz interna. Assim, temos que  $FG$  só pode ser bissetriz externa do triângulo  $FAB$ . Assim,  $\angle AFG = \frac{1}{2} \angle AFC$  (2)

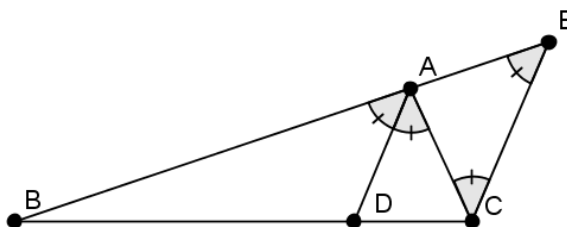
De (1) e (2) e usando que  $\angle AFB + \angle AFC = 180^\circ$ , temos que  $\angle GFH = \angle AFH + \angle AFG = 90^\circ$ , como queríamos provar ■

Agora, vejamos o nosso teorema principal sobre bissetrizes.

**Teorema 3 (Teorema da Bissetriz Interna):** Seja  $D$  o pé da bissetriz interna do ângulo  $\angle A$  de um triângulo  $ABC$ . Então:

$$\frac{BD}{CD} = \frac{AB}{AC}$$

**Demonstração:** Seja  $EC$  uma reta paralela a  $AD$ , como na figura abaixo.



Seja ainda  $\alpha = \angle BAD = \angle DAC$ . Como  $AD \parallel CE$ , então  $\angle ACE = \angle DAC = \alpha$  e  $\angle AEC = \angle BAD = \alpha$ , donde  $\angle ACE = \angle AEC = \alpha$ . Assim, o triângulo  $ACE$  é isósceles, e daí  $AE = AC$  (\*)

Agora, como  $AD \parallel CE$ , os triângulos  $BAD$  e  $BEC$  são semelhantes. Assim:

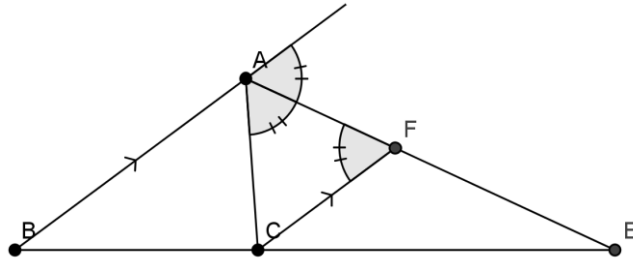
$$\frac{BD}{DC} = \frac{AB}{AE} \stackrel{(*)}{\Rightarrow} \frac{BD}{DC} = \frac{AB}{AC}$$

E o teorema 3 está provado ■

**Teorema 3' (Teorema da Bissetriz Externa):** Seja  $E$  o pé da bissetriz externa de  $\angle A$ . Então:

$$\frac{BE}{CE} = \frac{AB}{AC}$$

Demonstração:



Na figura acima,  $CF \parallel AB$ . Assim, como  $AE$  é bissetriz externa de  $\angle A$ , temos que, pelo paralelismo, que os três ângulos destacados acima são iguais. Daí, o triângulo  $ACF$  é isósceles, com  $AC = CF$  (\*)

No entanto, ainda pelo paralelismo, temos que os triângulos  $EBA$  e  $ECF$  são semelhantes. Assim:

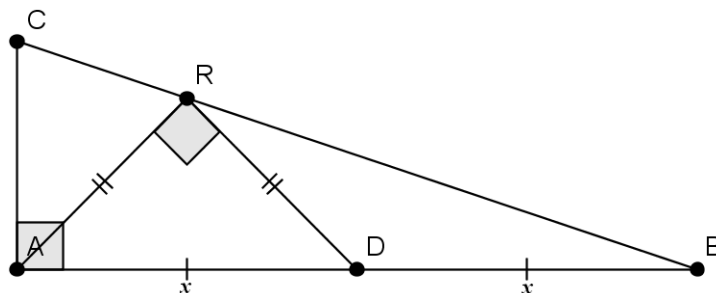
$$\frac{BE}{CE} = \frac{AB}{CF} \stackrel{(*)}{\Rightarrow} \frac{BE}{CE} = \frac{AB}{AC}$$

Como queríamos ■

O próximo exemplo mostra como bissetrizes são extremamente eficientes para o cálculo de áreas.

**Exemplo 4 (Olimpíada de Maio/2000):** Seja  $ABC$  um triângulo retângulo em  $A$  com cateto  $AC$  medindo 1. A bissetriz do ângulo  $\angle BAC$  corta a hipotenusa em  $R$ ; a perpendicular a  $AR$  traçada por  $R$  corta o lado  $AB$  em seu ponto médio. Encontre a medida do lado  $AB$ .

**Solução:**



Primeiro, como  $AR$  é bissetriz, então  $\angle CAR = \angle RAB = 45^\circ$ , e assim o triângulo  $ARD$  é retângulo e isósceles. Então, se  $x = AD = DB$ , então  $AR = RD = \frac{x\sqrt{2}}{2}$  (Demonstre isso usando Pitágoras!). Agora, vamos calcular a área de  $ARD$  de duas formas:

A primeira é fácil:  $\text{Área}(ARD) = \frac{AR \cdot RD}{2} = \frac{\frac{x\sqrt{2}}{2} \cdot \frac{x\sqrt{2}}{2}}{2} = \frac{x^2}{4} \Rightarrow \text{Área}(ARD) = \frac{x^2}{4}$  (1)

A segunda é mais legal! Veja só:

Sabemos que  $\frac{\text{Área}(ARB)}{\text{Área}(ARC)} = \frac{RB}{RC} = \frac{AB}{AC} = \frac{2x}{1} \Rightarrow \frac{\text{Área}(ARB)}{\text{Área}(ARC) + \text{Área}(ARB)} = \frac{2x}{2x+1} \Rightarrow$   
 $\frac{\text{Área}(ARB)}{\text{Área}(ABC)} = \frac{2x}{2x+1} \Rightarrow \frac{\text{Área}(ARB)}{x} = \frac{2x}{2x+1} \Rightarrow \text{Área}(ARB) = \frac{2x^2}{2x+1}$  (2)

Note que usamos o teorema da bissetriz interna ( $\frac{RB}{RC} = \frac{AB}{AC}$ ) e que a área de  $ABC$  é  $\frac{AC \cdot AB}{2} = \frac{(1)(2x)}{2} = x$ .

Agora, olhando o triângulo  $ARB$ , temos que, de (2):

$$\frac{\text{Área}(ARD)}{\text{Área}(RDB)} = \frac{AD}{DB} = 1 \Rightarrow \frac{\text{Área}(ARD)}{\text{Área}(RDB) + \text{Área}(ARD)} = \frac{1}{1+1} = \frac{1}{2} \Rightarrow \text{Área}(ARD) =$$

$$= \frac{\text{Área}(ARB)}{2} = \frac{\frac{2x^2}{2x+1}}{2} \Rightarrow \text{área}(ARD) = \frac{x^2}{2x+1}$$
 (3)

Finalmente, de (1) e (3):

$$\frac{x^2}{4} = \frac{x^2}{2x+1} \Rightarrow 2x = AB = 3$$

E portanto a resposta é 3 ■

Logo mais veremos como as bissetrizes se unem a Menelaus e Ceva para obtermos relações de grande valor, mas por enquanto vamos nos exercitar um pouquinho!

### Exercícios

- Seja  $I$  o incentro do triângulo  $ABC$ , as retas  $AI$ ,  $BI$ ,  $CI$  encontram o círculo circunscrito nos pontos  $A_1$ ,  $B_1$ ,  $C_1$ , respectivamente. Prove que  $AA_1$  é perpendicular a  $BB_1$ .
- Em um triângulo  $ABC$ ,  $\angle BAC = 100^\circ$  e  $AB = AC$ . Seja  $BD$  a bissetriz interna de  $\angle ABC$ , com  $D$  sobre o lado  $AC$ . Prove que  $AD + BD = BC$ .
- Seja  $ABC$  um triângulo retângulo em  $\angle A$ .  $D$  é o pé da altura relativa ao vértice  $A$ .  $I$  é o incentro do triângulo  $ABD$  e  $J$  é o incentro do triângulo  $ACD$ . A reta  $\overleftrightarrow{IJ}$  intersecta  $AB$  em  $P$  e  $AC$  em  $Q$ . Prove que  $AP = AQ$ .
- (Torneio das Cidades/1986) O triângulo  $ABC$  a altura relativa ao vértice  $A$  corta  $BC$  em  $H$ , e a bissetriz de  $\angle ABC$  corta  $AC$  em  $E$ . Se  $\angle BEA = 45^\circ$ , prove que  $\angle EHC = 45^\circ$ .

## 5. Quádruplas Harmônicas

Agora, o quarto elemento do nosso quarteto vai entrar em ação: as *Quádruplas Harmônicas*! Mas afinal, o que é isso?

**Definição:** No plano euclidiano, se quatro pontos  $A$ ,  $C$ ,  $B$  e  $D$  estão sobre uma reta, nessa ordem, dizemos que  $A$ ,  $C$ ,  $B$  e  $D$  formam uma quádrupla harmônica se:

$$\frac{AC}{BC} = \frac{AD}{BD}$$

Observe que um exemplo de quádrupla harmônica é obtido se considerarmos dois vértices e os pés das bissetrizes relativos ao vértice oposto (interna e externa). Isso ocorre porque, dado um triângulo  $ABC$ , e sendo  $D$  e  $D'$  os pés das bissetrizes interna e externa relativos ao vértice  $A$ , respectivamente, temos que:

$$\frac{BD}{CD} = \frac{BD'}{CD'} = \frac{BA}{CA}$$

Agora, vamos provar um teorema que nos ajudará a obter muitas quádruplas harmônicas. Mais precisamente, dados três pontos  $A, C, B$ , nesta ordem numa reta, esse teorema nos mostrará como obter o ponto  $D$  nessa reta, de modo que  $A, C, B, D$  formem uma quádrupla harmônica.

**Teorema 4 (Construção do conjugado harmônico usando apenas régua):** Escolha um ponto  $E$  arbitrário, onde  $E$  não está em  $\overleftrightarrow{ABC}$ . Escolha outro ponto  $F$  sobre  $\overleftrightarrow{AE}$ , e seja  $\{H\} = \overleftrightarrow{BF} \cap \overleftrightarrow{EC}$ . Depois, trace  $\overleftrightarrow{AH}$  e seja  $\{G\} = \overleftrightarrow{AH} \cap \overleftrightarrow{EB}$ . Trace ainda  $\overleftrightarrow{GF}$ . Então  $\{D\} = \overleftrightarrow{FG} \cap \overleftrightarrow{AB}$  é o conjugado harmônico de  $C$  relativo a  $\overleftrightarrow{AB}$ .

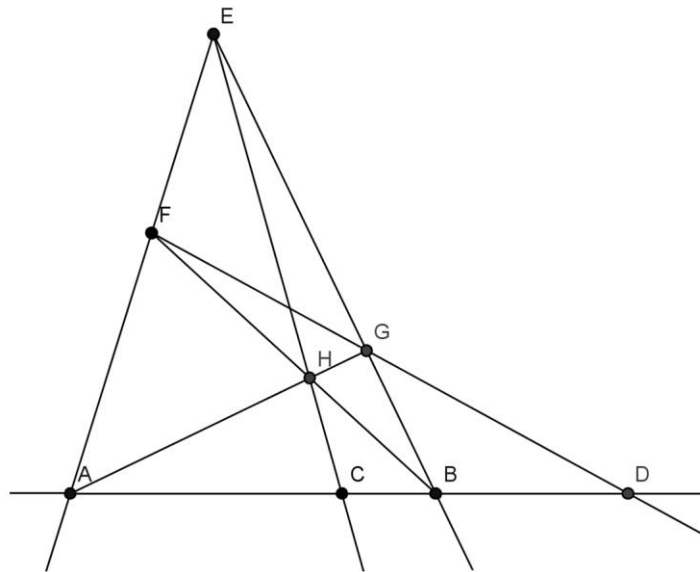
**Demonstração:** Embora a construção seja complicada a princípio, ao olharmos a figura abaixo, vemos que ela não é tão feia assim... Veja também que há muitas incidências, colinearidades e concorrências, o que indica que devemos usar os teoremas de Ceva e Menelaus para alcançar nosso objetivo. Vamos fazer isso agora!

Os pontos  $D, G$  e  $F$  são colineares. Logo, pelo Teorema de Menelaus no triângulo  $AEB$ , temos que:

$$\frac{BD}{AD} \cdot \frac{AF}{EF} \cdot \frac{EG}{BG} = 1 \Rightarrow \frac{AF}{EF} \cdot \frac{EG}{BG} = \frac{AD}{BD} \quad (1)$$

Também, pelo Teorema de Ceva no triângulo  $AEB$ :

$$\frac{AF}{EF} \cdot \frac{EG}{BG} \cdot \frac{BC}{AC} = 1 \Rightarrow \frac{AF}{EF} \cdot \frac{EG}{BG} = \frac{AC}{BC} \quad (2)$$

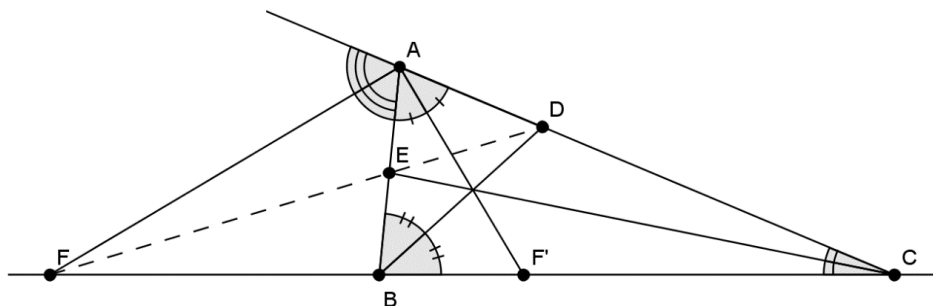


Combinando (1) e (2), temos  $\frac{AC}{BC} = \frac{AD}{BD}$ , como queríamos provar ■

Esse teorema nos permite obter facilmente muitas colinearidades e concorrências: basta vermos que existe uma quádrupla harmônica em uma reta! Por exemplo...

**Corolário:** No triângulo  $ABC$ , as bissetrizes internas de  $\angle B$  e  $\angle C$  intersectam os lados  $AC$  e  $AB$  em  $D$  e  $E$ , respectivamente. A bissetriz externa de  $\angle A$  intersecta  $BC$  em  $F$ . Então  $D, E, F$  são colineares.

**Prova:**



Seja  $F'$  o pé da bissetriz interna de  $\angle A$ . Já vimos que  $AF', BD, CE$  são concorrentes e que  $F, B, F', C$  formam uma quádrupla harmônica. Assim, pelo teorema 4, temos que  $D, E, F$  são colineares ■

Usaremos o corolário acima (obtido através da combinação do nosso quarteto harmônico) para acabar com um problema bem pesado. Não, não é o Doutor Destino, mas sim o problema 6 da OBM, que mesmo não sendo um vilão, deu muito trabalho aos heróis olímpicos do Nível 2 (apenas 19 pessoas fizeram 5 de 50 pontos nele, e ninguém conseguiu uma pontuação maior que essa).

Antes, porém, vamos nos aprofundar mais nas quádruplas harmônicas.

### Exercícios

10. Seja  $ABC$  um triângulo e sejam  $X, Y$  e  $Z$  pontos sobre os lados  $BC, CA$  e  $AB$ , respectivamente. Seja  $W$  a intersecção da reta  $YZ$  com o prolongamento do lado  $BC$ . Então  $B, X, C$  e  $W$  formam uma quádrupla harmônica se, e somente se,  $AX, BY$  e  $CZ$  são concorrentes.
11. (a) Seja  $A, C, B$  e  $D$  uma quádrupla harmônica. Seja  $O$  um ponto que não pertence à reta  $AB$ . Se uma paralela pelo ponto  $B$  à  $OA$  intersecta  $OC$  e  $OD$  em pontos  $P$  e  $Q$  então  $PB = PQ$ .  
(b) Sejam  $A, C, B$  e  $D$  quatro pontos colineares e seja  $O$  um ponto que não pertence à reta  $AB$ . Se a paralela à  $OA$  passando por  $B$  intersecta  $OC$  e  $OD$  em pontos  $P$  e  $Q$ , respectivamente, tais que  $PB = BQ$  então  $A, C, B$  e  $D$  formam uma quádrupla harmônica.
12. Seja  $A, C, B$  e  $D$  uma quádrupla harmônica e um ponto  $O$  que não pertence à reta  $AB$ . Sejam  $M, R, N$  e  $S$  as intersecções de  $OA, OC, OB$  e  $OD$ , respectivamente, com uma reta arbitrária. Então,  $M, R, N$  e  $S$  formam uma quádrupla harmônica.
13. (Circunferência de Apolônio) Sejam  $A$  e  $B$  dois pontos fixos e  $k \neq 1$  é uma constante real positiva. Prove que o lugar geométrico dos pontos  $P$  que satisfazem  $AP/PB = k$  é uma circunferência conhecida como circunferência de Apolônio. (sugestão: construa pontos  $Q$  e  $R$  sobre  $AB$  de modo que  $QP/PR = k$  e use o teorema das bissetrizes).

## 6. O Problema 6 da OBM 2015

Agora, nossas técnicas vão entrar em ação, e como um dos membros do quarteto diria: “Tá na hora do pau!!!” (que coisa do coisa, não? Rsr)

**O Problema 6 da OBM-2015:** Seja  $ABC$  um triângulo escaleno e  $AD$ ,  $BE$  e  $CF$  as bissetrizes internas, com  $D$  sobre  $BC$ ,  $E$  sobre  $AC$  e  $F$  sobre  $AB$ . É dado que  $\angle AFE = \angle ADC$ . Calcule a medida do ângulo  $\angle BCA$ .

**Solução:** Seja  $D'$  a interseção de  $EF$  com  $BC$ . A primeira pergunta que fazemos é: Será que a posição de  $D'$  é como na figura 1 ou como na figura 2?

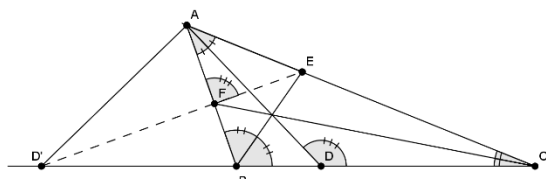


Figura 1

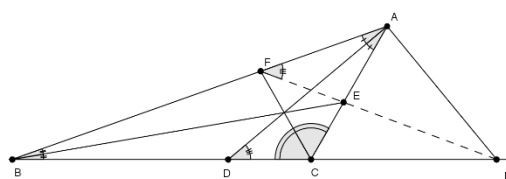
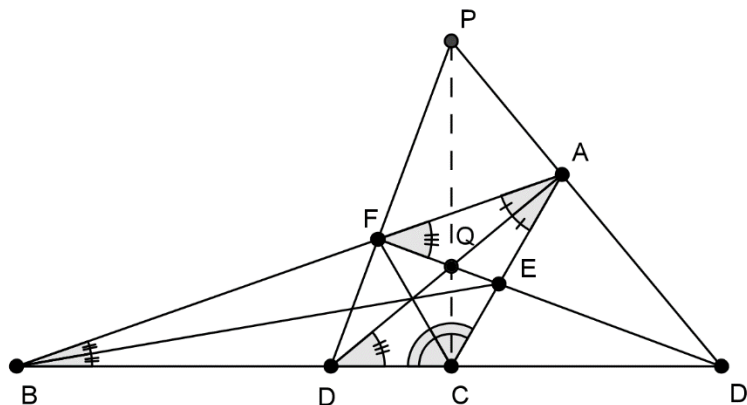


Figura 2

Vejam os porquê a figura 1 é impossível. Para começar, observe que, por ângulo externo que  $\angle ADC = \angle DAD' + \angle AD'D > \angle FAD' + \angle FD'A = \angle AFE$ , donde  $\angle ADC > \angle AFE$ , o que é um absurdo. Portanto, devemos considerar a situação da figura 2.

A próxima figura é a mesma figura 2 com mais detalhes. Seja  $P$  a interseção entre  $DF$  e  $AD'$  e seja  $Q$  a interseção entre  $FD'$  e  $AD$ . Do corolário e do teorema 4, sabemos que  $B, D, C, D'$  formam uma quádrupla harmônica e que  $\angle DAD' = 90^\circ$ .



Como  $\angle AFE = \angle ADC \Rightarrow \angle AFD' = \angle ADD'$ , donde  $AFDD'$  é inscrito. Assim, temos que  $\angle DFD' = \angle DAD' = 90^\circ$ , ou seja,  $D'F$  e  $DA$  são alturas do triângulo  $PDD'$ . Em particular,  $Q$  é o ortocentro do triângulo  $PDD'$ .

Agora, usando o fato de que  $B, D, C, D'$  formam uma quádrupla harmônica, temos que, pelo exercício 10 (você já o fez?),  $DA, D'F, PC$  são concorrentes, ou seja,  $P, Q, C$  são colineares. Assim, temos que  $PC$  é altura de  $PDD'$ , já que  $Q$  é o ortocentro (aqui usamos um quinto elemento – ele é tipo um surfista prateado, só “tirando onda”...kkk). Dessa forma, temos que:

- $AFDD'$  é cíclico ( $\angle DFD' = \angle DAD' = 90^\circ$ ), logo  $\angle FDA = \angle FD'A$ ;
- $FQCD$  é cíclico ( $\angle QFD + \angle QCD = 90^\circ + 90^\circ = 180^\circ$ ), logo  $\angle FDQ = \angle FCQ$ ;
- $AQCD'$  é cíclico ( $\angle QAD' + \angle QCD' = 90^\circ + 90^\circ = 180^\circ$ ),  $\Rightarrow \angle ACQ = \angle AD'Q$ ;

Das igualdades de ângulos, concluímos que  $\alpha = \angle FCQ = \angle QCA \Rightarrow 2\alpha = \angle FCA$ , e como  $CF$  é bissetriz do triângulo  $ABC$ , temos  $2\alpha = \angle CFB$ , e assim  $3\alpha = \angle QCB = 90^\circ$  (já que  $PC \perp DD'$ ). Com isso,  $\alpha = 30^\circ$  e finalmente  $\angle BCA = 4\alpha = 120^\circ$  ■

Para finalizar, que tal usarmos nosso grande quarteto para resolver vários problemas, inclusive os problemas abaixo. Tenham todos uma fantástica diversão!

## 7. Problemas

- (OBM/2001) As medidas dos ângulos do triângulo  $ABC$  são tais que  $\angle A < \angle B < 90^\circ < \angle C$ . As bissetrizes externas dos ângulos  $\angle A$  e  $\angle C$  cortam os prolongamentos dos lados opostos  $BC$  e  $AB$  nos pontos  $P$  e  $Q$ , respectivamente. Sabendo que  $AP = CQ = AC$ , determine os ângulos de  $ABC$ .
- As bissetrizes internas dos ângulos  $\hat{A}$  e  $\hat{C}$  do triângulo  $ABC$  cortam-se no ponto  $I$ . Sabe-se que  $AI = BC$  e que  $m(\hat{ICA}) = 2m(\hat{IAC})$ . Determine a medida de  $\hat{ABC}$ .
- (OBM) No triângulo  $ABC$ , a medida do ângulo  $\angle C$  é  $60^\circ$  e a bissetriz do ângulo  $\angle B$  forma  $70^\circ$  com a altura relativa ao vértice  $A$ . Calcule os ângulos do triângulo  $ABC$ .
- (Ibero-Americana/2002) Num triângulo escaleno  $ABC$  traça-se a bissetriz interna  $BD$ , com  $D$  sobre  $AC$ . Sejam  $E$  e  $F$ , respectivamente, os pés das perpendiculares traçadas desde  $A$  e  $C$  até à reta  $BD$ , e seja  $M$  o ponto sobre o lado  $BC$  tal que  $DM$  é perpendicular a  $BC$ . Demonstre que  $\angle EMD = \angle DMF$ .
- (Polônia/2000) Seja  $I$  o incentro de um triângulo  $ABC$ , com  $AB \neq AC$ . As retas suportes dos segmentos  $BI$  e  $CI$  intersectam os lados  $AC$  e  $AB$  nos pontos  $D$  e  $E$ , respectivamente. Ache o ângulo  $\angle BAC$ , sabendo que  $DI = EI$ .
- (Torneio das Cidades/1986) O triângulo  $ABC$  a altura relativa ao vértice  $A$  corta  $BC$  em  $H$ , e a bissetriz de  $\angle ABC$  corta  $AC$  em  $E$ . Se  $\angle BEA = 45^\circ$ , prove que  $\angle EHC = 45^\circ$ .
- Sejam  $ABC$  um triângulo,  $M$  o pé da bissetriz interna do ângulo  $\angle A$  e  $N$  o pé da bissetriz interna do ângulo  $\angle B$ . Suponha que  $MN$  seja bissetriz do ângulo  $\angle AMC$ . Calcule a medida do ângulo  $\angle A$ .
- (OBM/2005) A medida do ângulo  $B$  de um triângulo  $ABC$  é  $120^\circ$ . Sejam  $M$  um ponto sobre o lado  $AC$  e  $K$  um ponto sobre o prolongamento do lado  $AB$ , tais que  $BM$  é a bissetriz interna do ângulo  $\angle ABC$  e  $CK$  é a bissetriz externa correspondente ao ângulo  $\angle ACB$ . O segmento  $MK$  intersecta  $BC$  no ponto  $P$ . Prove que  $\angle APM = 30^\circ$ .
- (IMO/2001) Num triângulo  $ABC$ , seja  $AP$  a bissetriz de  $\angle BAC$  com  $P$  no lado  $BC$ , e seja  $BQ$  a bissetriz de  $\angle ABC$  com  $Q$  no lado  $CA$ . Sabemos que  $\angle BAC = 60^\circ$  e que  $AB + BP = AQ + QB$ . Quais são os possíveis valores dos ângulos do triângulo  $ABC$ ?
- Um círculo é tangente ao lado  $BC$  do triângulo  $ABC$  em  $M$ , seu ponto médio, e corta  $AB$  e  $AC$  nos pontos  $R, R'$  e  $S, S'$ , respectivamente. Se  $RS$  e  $R'S'$  são prolongados até cortar  $BC$  nos pontos  $P$  e  $P'$ , respectivamente, prove que  $BP \cdot BP' = CP \cdot CP'$ .
- No triângulo  $ABC$ ,  $P, Q, R$  são os pontos médios dos lados  $AB, BC, CA$ , respectivamente. As retas  $AN, BL$  e  $CM$  são concorrentes cortando os lados em  $N, L, M$ , respectivamente. Se  $PL$  corta  $BC$  em  $J$ ,  $MQ$  corta  $AC$  em  $I$ , e  $RN$  corta  $AB$  em  $H$ , prove que  $H, I, J$  são colineares.
- (Bielorússia/1995) Seja  $H$  o ponto de interseção das alturas  $BB_1$  e  $CC_1$  do triângulo acutângulo  $ABC$ . Seja  $l$  uma reta passando por  $A$ , tal que  $l \perp AC$ . Prove



- que as retas  $BC$ ,  $B_1C_1$  e  $l$  possuem um ponto em comum se e somente se  $H$  for o ponto médio de  $BB_1$ .
13. (Coréia) Seja  $ABC$  um triângulo com  $AB \neq AC$ , seja  $V$  a intersecção da bissetriz do ângulo  $\angle A$  com  $BC$  e seja  $D$  o pé da altura relativa ao vértice  $A$ . Se  $E$  e  $F$  são as intersecções do círculo circunscrito ao triângulo  $AVD$  com  $CA$  e  $AB$ , respectivamente, mostre que  $AD$ ,  $BE$  e  $CF$  são concorrentes.
  14. Seja  $P$  um ponto no interior de um triângulo. As bissetrizes de  $\angle BPC$ ,  $\angle CPA$  e  $\angle APB$  intersectam  $BC$ ,  $CA$  e  $AB$  em  $X$ ,  $Y$  e  $Z$ , respectivamente. Prove que  $AX$ ,  $BY$  e  $CZ$  são concorrentes.
  15. (IMO) As diagonais  $AC$  e  $CE$  de um hexágono regular  $ABCDEF$  são divididas internamente pelos pontos  $M$  e  $N$ , respectivamente, na razão  $\frac{AM}{AC} = \frac{CN}{CE} = r$ . Determine  $r$  se  $B$ ,  $M$  e  $N$  são colineares.
  16. Seja  $ABC$  um triângulo e sejam  $E$  e  $D$  pontos sobre o lado  $BC$  tal que  $CE = ED = DB$ . Seja  $F$  o ponto médio de  $AC$  e  $G$  o ponto médio de  $AB$ . Seja  $H$  a intersecção de  $EG$  e  $FD$ . Determine o valor de  $\frac{EH}{HG}$ .
  17. (Cone Sul) Seja  $C$  uma circunferência de centro  $O$ ,  $AB$  um diâmetro dela e  $R$  um ponto qualquer em  $C$  distinto de  $A$  e de  $B$ . Seja  $P$  a intersecção da perpendicular traçada por  $O$  a  $AR$ . Sobre a reta  $OP$  se marca o ponto  $Q$ , de maneira que  $QP$  é a metade de  $PO$  e  $Q$  não pertence ao segmento  $OP$ . Por  $Q$  traçamos a paralela a  $AB$  que corta a reta  $AR$  em  $T$ . Chamamos de  $H$  o ponto de intersecção das retas  $AQ$  e  $OT$ . Provar que  $H$ ,  $R$  e  $B$  são colineares.
  18. Seja  $ABC$  um triângulo e sejam  $D$  o pé da bissetriz relativa ao vértice  $A$ ,  $I$  o incentro e  $I_a$  o ex-incentro oposto ao vértice  $A$ . Prove que  $A$ ,  $I$ ,  $D$  e  $I_a$  formam uma quádrupla harmônica.
  19. Em um triângulo não equilátero, a reta que passa pelo baricentro e pelo incentro é paralela a um dos lados do triângulo. Demonstre que os lados do triângulo estão em progressão aritmética.
  20. (Shortlist IMO) Seja  $ABC$  um triângulo, e sejam  $D, E, F$  os pontos de tangência do círculo inscrito no triângulo  $ABC$  com os lados  $BC$ ,  $CA$  e  $AB$  respectivamente. Seja  $X$  um ponto no interior do triângulo  $ABC$  tal que o círculo inscrito no triângulo  $XBC$  tangencia  $XB$ ,  $XC$  e  $BC$  em  $Z$ ,  $Y$  e  $D$ , respectivamente. Prove que  $EFZY$  é inscritível.
  21. (TST Jr Balkan - Romênia) Seja  $ABC$  um triângulo retângulo com  $\angle A = 90^\circ$  e  $D$  um ponto sobre o lado  $BC$ . Sejam  $E$  o simétrico de  $A$  com relação a  $BD$  e  $F$  o ponto de intersecção de  $CE$  com a perpendicular a  $BC$  por  $D$ . Prove que  $AF$ ,  $DE$  e  $BC$  são concorrentes.
  22. (Recíproca do Problema 6 da OBM) Seja  $ABC$  um triângulo escaleno e  $AD$ ,  $BE$  e  $CF$  as bissetrizes internas, com  $D$  sobre  $BC$ ,  $E$  sobre  $AC$  e  $F$  sobre  $AB$ . É dado que  $\angle BCA = 120^\circ$ . Prove que  $\angle AFE = \angle ADC$ .