

XXII OLIMPIÁDA BRASILEIRA DE MATEMÁTICA
Segunda Fase – Nível 1 (5ª. e 6ª. séries)

PROBLEMA 1

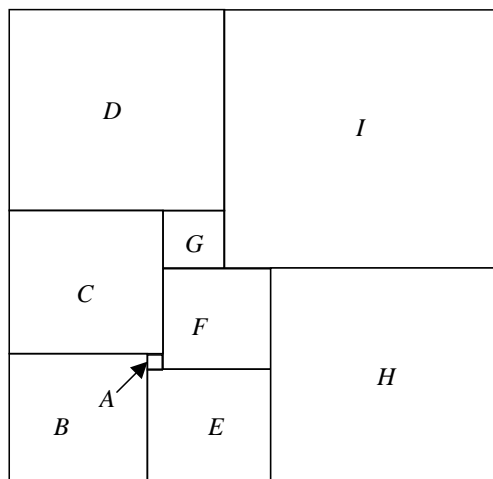
De quantas maneiras diferentes podemos construir um paralelepípedo usando exatamente 24 blocos cúbicos de medidas $1 \times 1 \times 1$?

Obs: Blocos de dimensões $2 \times 3 \times 4$ e $2 \times 4 \times 3$ devem ser considerados iguais.

PROBLEMA 2

O retângulo ao lado está dividido em 9 quadrados, A, B, C, D, E, F, G, H e I . O quadrado A tem lado 1 e o quadrado B tem lado 9.

Qual é o lado do quadrado I ?



PROBLEMA 3

Pintamos de vermelho ou azul 100 pontos em uma reta. Se dois pontos vizinhos são vermelhos, pintamos o segmento que os une de vermelho. Se dois pontos vizinhos são azuis, pintamos o segmento de azul. Finalmente, se dois pontos vizinhos têm cores distintas, pintamos o segmento de verde. Feito isto, existem exatamente 20 segmentos verdes.

O ponto na ponta esquerda é vermelho.

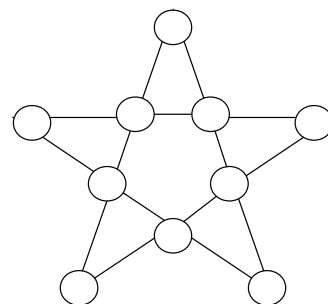
É possível determinar com estes dados a cor do ponto na ponta direita?

Em caso afirmativo, qual a cor deste ponto?

PROBLEMA 4

Desejamos escrever os inteiros de 1 a 10 nas casas do desenho ao lado de tal forma que quaisquer quatro números alinhados aparecem em ordem crescente ou decrescente.

- Mostre uma maneira de dispor os números respeitando estas condições.
- Quais números podem aparecer nas pontas da estrela?
- Quais números podem aparecer nas outras cinco posições?



PROBLEMA 5

Qual é o menor inteiro positivo que é o dobro de um cubo e o quádruplo de um quadrado?

PROBLEMA 6

Qual é o maior inteiro positivo n tal que os restos das divisões de 154, 238 e 334 por n são iguais?

SOLUÇÕES DO PRIMEIRO NÍVEL

Solução do Problema 1:

Sejam $a \leq b \leq c$ as dimensões do paralelepípedo. Temos que $a, b, c \in \mathbb{N}^*$ e $abc = 24$. Como $abc \geq a.a.a \Leftrightarrow a^2 \leq 24$, temos $a \leq 2$, ou seja $a = 1$ ou $a = 2$.

Se $a = 1$, $bc = 24$. As possibilidades para b e c são $b = 1$ e $c = 24$; $b = 2$ e $c = 12$; $b = 3$ e $c = 8$; $b = 4$ e $c = 6$.

Se $a = 2$, $bc = 12$. As possibilidades para b e c com $b \geq 2$ são $b = 2$ e $c = 6$; $b = 3$ e $c = 4$.

Assim, há 6 maneiras de construirmos o paralelepípedo.

Solução do Problema 2:

O quadrado A medido de lado 1cm enquanto que o quadrado B tem medida de lado 9cm. Daí que as longitudes dos lados dos quadrados restantes são:

$C = 10\text{cm}$ $G = 4\text{cm}$.

$F = 7\text{cm}$ $E = 8\text{cm}$.

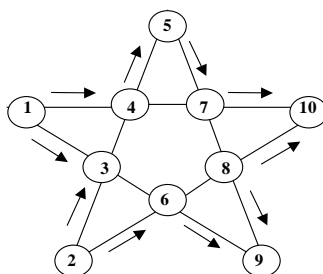
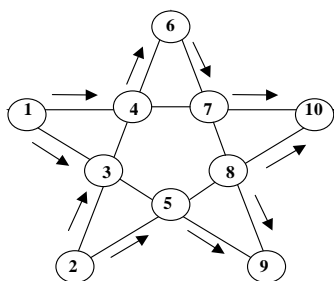
$D = 14\text{cm}$. $I = 18\text{cm}$.

Solução do Problema 3:

Temos que os segmentos verdes dividem os pontos da reta em conjuntos de pontos com cores iguais, sendo que o primeiro conjunto à esquerda contém pontos vermelhos, o segundo conjunto contém pontos azuis, o terceiro conjunto contém pontos vermelhos, e assim por diante. Como há 20 segmentos verdes, temos 21 conjuntos de pontos.

Assim, como o 21º conjunto contém pontos vermelhos, o ponto na ponta direita é vermelho.

Solução do Problema 4:



- 1) **1 e 2 ocupam pontas vizinhas.** É fácil ver que colocando o 2 no meio ou em uma ponta "oposta" a 1 o problema não tem solução.
- 2) **9 e 10 ocupam pontas vizinhas.** Pelo mesmo raciocínio anterior.
- 3) Uma vez que 1 e 2 estão colocados o **3 está no meio, entre o 1 e o 2.** Observe que colocar o 3 em qualquer outra posição leva a um absurdo.
- 4) Uma vez que 1, 2 e 3 estão colocados, fica claro que o **4 é vizinho ao 3.**
- 5) Se 1, 2, 3 e 4 já estão colocados, **5 pode estar no meio ou em uma ponta, e o mesmo ocorre com o 6.** (ver figuras) Quando um deles está numa ponta, o outro está no meio.
- 6) **O 7 está no meio.**

Respostas:

- Ver figuras
- 1, 2, 9 e 10 obrigatórios mais 5 ou 6.
- 3, 4, 7, 8 obrigatórios mais 5 ou 6.

Solução do Problema 5:

Decomponha N em primos = $2^{a_2} 3^{a_3} \dots$

Dobro de um cubo quer dizer que todos os a_i são múltiplos de 3 exceto a_2 que deixa resto 1 na divisão por 3.

Quíntuplo de um quadrado quer dizer que todos são pares exceto a_5 .

Os menores expoentes possíveis são então $a_2 = 4$; $a_5 = 3$ e os outros $a_3 = a_7 = \dots = 0$.

Resposta: $N = 2^4 5^3 = 2000$.

Solução do Problema 6:

Dois números deixam o mesmo resto quando divididos por n se e só se sua diferença é múltipla de n . Logo, as diferenças $238 - 154 = 84$ e $334 - 238 = 96$ são ambas múltiplas de n . Como n é o maior possível, concluímos que n deve ser o maior divisor comum de 84 e 96, que é 12.