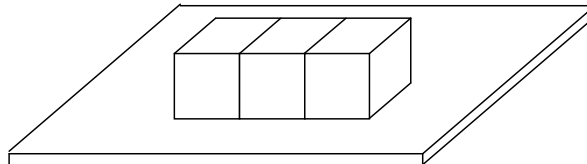


## XXII OLIMPIÁDA BRASILEIRA DE MATEMÁTICA

### Terceira Fase – Nível 2 (7<sup>a</sup>. e 8<sup>a</sup>. séries)

#### PROBLEMA 1:

Paulo tem três dados comuns idênticos nos quais a soma dos números em duas faces opostas é sempre igual a 7. Ele cola os dados, de modo que cada par de faces coladas tenha o mesmo número, e depois os coloca sobre uma mesa não transparente, conforme indica a figura. A soma dos números em todas as onze faces visíveis é 36. Qual é a soma dos números das três faces que estão em contato com a mesa?



#### PROBLEMA 2:

Isabel tem dois baralhos, cada um com 50 cartas. Em cada um dos baralhos estão escritos os números de 1 a 100 (em cada carta estão escritos dois números, um em cada face da carta). Por um defeito de fabricação, a distribuição dos números nas cartas não é a mesma nos dois baralhos (por exemplo, em um dos baralhos o 1 aparece na mesma carta do 2; no outro, o 1 aparece com o 76).

Mostre como Isabel deve fazer para que, ao colocar as 100 cartas sobre uma mesa, as faces voltadas para cima mostrem todos os números de 1 a 100.

#### PROBLEMA 3:

Em uma folha de papel a reta  $r$  passa pelo canto  $A$  da folha e forma um ângulo  $\alpha$  com a borda horizontal, como na figura 1. Para dividir este ângulo  $\alpha$  em três partes iguais, executaremos as seguintes construções:

- inicialmente, marcamos dois pontos  $B$  e  $C$  sobre a borda vertical de modo que  $AB = BC$ ; pelo ponto  $B$  traçamos a reta  $s$  paralela à borda (figura 2);
- a seguir, dobramos o papel, ajustando-o de modo que o ponto  $C$  coincida com um ponto  $C'$  sobre a reta  $r$  e o ponto  $A$  coincida com um ponto  $A'$  sobre a reta  $s$  (figura 3); chamamos de  $B'$  o ponto com o qual  $B$  coincide.

Mostre que as retas  $AA'$  e  $AB'$  dividem o ângulo  $\alpha$  em três partes iguais.

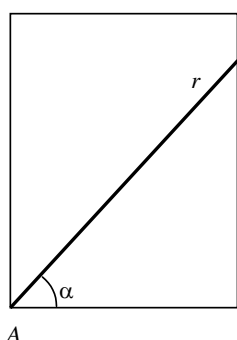


Figura 1

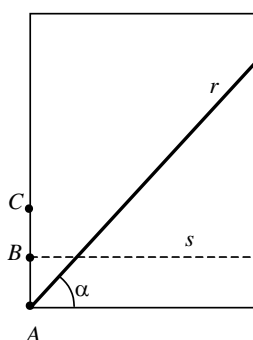


Figura 2

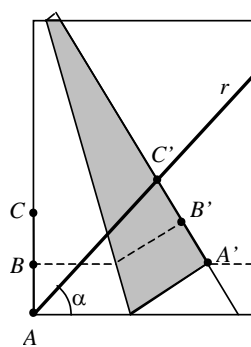


Figura 3

#### PROBLEMA 4:

É possível encontrar duas potências de 2, distintas e com o mesmo número de algarismos, tais que uma possa ser obtida através de uma reordenação dos dígitos da outra?

# XXII OLIMPIÁDA BRASILEIRA DE MATEMÁTICA

## SOLUÇÕES

### Terceira Fase – Nível 2 (7ª. e 8ª. séries)

#### PROBLEMA 1:

SOLUÇÃO DE ALEX CORRÊA ABREU (NITERÓI - RJ)

Sejam  $a$  e  $b$  os números das faces coladas. Como  $a$  é o número da face oposta à face de  $b$ , no dado central, temos que  $a + b = 7$ .

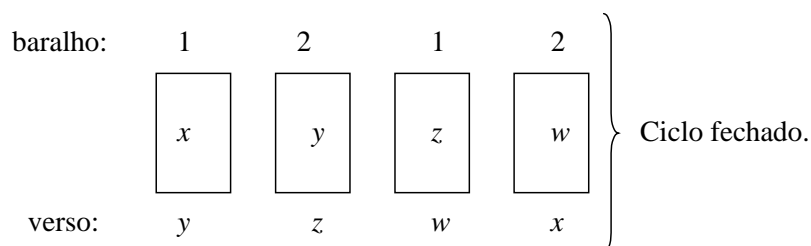
A soma dos números das faces de cada dado é 21, então a soma dos números das faces de todos os dados é 63, mas a soma das faces coladas é  $2(a + b) = 14$ , e a soma das faces visíveis é 36, temos, então, que a soma de números das faces em contato com a mesa é:  $63 - 36 - 14 = 13$ .

Resposta: a soma é 13.

#### PROBLEMA 2:

SOLUÇÃO DE VITOR GABRIEL KLEINE (MOGI DAS CRUZES - SP)

Podemos fazer isso pegando qualquer carta de qualquer baralho, colocando sobre a mesa e vendo seu verso. Depois disso procuramos a carta de mesmo número do verso (procurando no outro baralho, já que já foi usada no primeiro baralho). Fazemos com esta carta o mesmo que foi feito com a primeira carta. Continua-se a fazer isso até fechar um ciclo (um mesmo número que já saiu em um baralho sair no outro).



Quando um ciclo for fechado pega-se outra carta e começa um novo ciclo. Fazendo isso até o final das cartas as faces voltadas para cima mostrarão todos os números de 1 a 100.

#### PROBLEMA 3:

VEJA A SOLUÇÃO DO PROBLEMA 1 DO NÍVEL 3

#### PROBLEMA 4:

SOLUÇÃO DE SAMUEL BARBOSA FEITOSA (FORTALEZA - CE)

Sejam  $A = 2^m$  e  $A' = 2^n$  onde  $A'$  é uma reordenação dos dígitos de  $A$ , suponha sem perda de generalidade que  $A > A'$ , daí  $A$  é um múltiplo de  $A'$  pois possui os mesmos fatores primos. Então temos que  $A = A' \cdot k$ , onde  $k \in \mathbb{Z}$ ,  $k > 1$  (pois caso não fosse  $\Rightarrow A' = A$ , o que seria um absurdo, pois  $A$  e  $A'$  são distintos.) e  $k$  é uma potência de dois, pois  $A$  só possui fatores primos iguais a 2, daí  $k = 2, 4, 8 \Rightarrow A = 2A'$  ou  $A = 4A'$  ou  $A = 8A'$ .

Como a soma de seus dígitos é a mesma,  $A$  e  $A'$  deixam o mesmo resto (mod 9) e sua diferença é divisível por 9, mas  $A - A'$  só pode ser:  $A', 3A', 7A'$ , onde nenhuma dessas diferenças é divisível por 9. Daí não existem tais números. Nenhum número é divisível por 9, pois cada um desses números não possui pelo menos dois fatores primos iguais a 3.